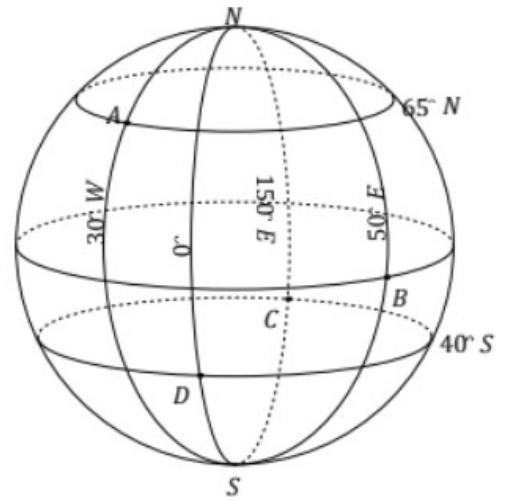


Exercices repérage sur une sphère

Exercice 1 :

Donner les coordonnées géographiques des points A, B, C et D.



Exercice 2 :

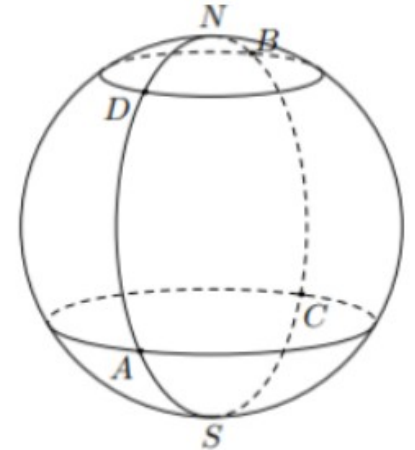
On a les coordonnées de A et B :

A (30°S ; 10°O)

et

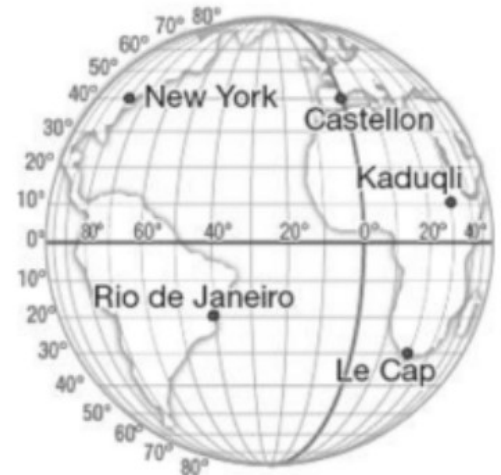
B : (55°N ; 130°E)

En déduire les coordonnées de C et D .



Exercice 3 :

Indiquer les coordonnées géographiques des cinq villes situées sur la sphère terrestre.



Exercice 4 :

Sur la sphère terrestre ci-contre, on a placé différents lieux.

a) Citer deux lieux qui ont la même latitude.

b) Citer deux lieux qui ont la même longitude.

c) Quel lieu a pour coordonnées géographiques (70°E ; 30°N) ?

